



کد محصول  
ES383



آخرین بروزرسانی  
۲۱ آبان ۱۴۰۴

## سوالات استخدامی

# شرکت کار و تامین

✓ مطابق با منابع اعلام شده در آزمون استخدامی ۱۴۰۴

✓ نسخه رایگان شامل ۲۴۲ سوال (تعداد کمتر و تنها برخی دارای پاسخ)

✓ برای تهیه نسخه اصلی، با ۱۰۰۲ سوال به همراه پاسخنامه تشریحی، به سایت ایران عرضه مراجعه نمایید.



## لینک های مفید آزمون استخدامی شرکت کار و تامین

خرید این محصول	سوالات رایگان کار و تامین با پاسخنامه
خرید سوالات تامین اجتماعی	خرید درسنامه کار و تامین
خرید سوالات استخدامی ۱۰ سال اخیر	منابع آزمون شرکت کار و تامین
اخبار آزمون شرکت کار و تامین	شبکه های اجتماعی ایران عرضه (فایل های رایگان + تخفیفات هفتگی + اخبار)
(برای مشاهده هر بخش روی آن بزنید  )	
<b>آخرین بروزرسانی ها:</b> ۱۴۰۴/۰۸/۲۱ آپدیت سوالات شناخت تامین ۱۴۰۴/۰۸/۱۳ آپدیت محصول بر اساس منابع آزمون ۱۴۰۴	

## فهرست مطالب

- ❖ فصل اول: سوالات معارف اسلامی - صفحه ۴ (۵ سوال)
- ❖ فصل دوم: سوالات زبان و ادبیات فارسی - صفحه ۶ (۵ سوال)
- ❖ فصل سوم: سوالات ریاضی و آمار مقدماتی - صفحه ۷ (۵ سوال)
- ❖ فصل چهارم: سوالات اطلاعات عمومی، دانش اجتماعی و حقوق اساسی - صفحه ۸ (۵ سوال)
- ❖ فصل پنجم: سوالات زبان انگلیسی عمومی - صفحه ۹ (۵ سوال)
- ❖ فصل ششم: سوالات هوش و توانمندی های عمومی - صفحه ۱۱ (۵ سوال)
- ❖ فصل هفتم: سوالات فناوری اطلاعات - صفحه ۱۳ (۵ سوال)
- ❖ فصل هشتم: سوالات شناخت تامین اجتماعی - صفحه ۱۴ (۵ سوال)
- ❖ فصل نهم: اصل سوالات آزمون استخدامی شرکت کار و تامین سال ۱۳۹۹ - صفحه ۱۵ (۸۷ سوال)
- ❖ فصل دهم: اصل سوالات آزمون استخدامی شرکت کار و تامین سال ۱۴۰۱ - صفحه ۲۵ (۷۵ سوال)
- ❖ فصل یازدهم: اصل سوالات آزمون استخدامی شرکت کار و تامین خوزستان سال ۱۴۰۳ - صفحه ۳۶ (۴۰ سوال)

در هر بخش، تنها ۱ سوال ابتدایی دارای پاسخنامه تشریحی می باشد. در صورت تمایل به دریافت سوالات بیشتر با جواب تشریحی می توانید این محصول را از سایت ایران عرضه خریداری نمایید.

خرید محصول

## ❖ فصل اول: سوالات معارف اسلامی

۱- حدیث «دعوت کننده مردم باشید اما ه با زبان، بلکه با پارسایی، تلاش، نماز و نیکی که این رفتارها خود دعوت کننده هستند.» به کدام مفهوم اشاره دارد؟

- (۱) مؤثرترین راه فراخوانی به خیر و نیکی دعوت غیر زبانی است.
  - (۲) مؤثرترین راه فراخوانی به خیر و نیکی دعوت عملی است.
  - (۳) دعوت به خیر و نیکی قبل از امر به معروف می باشد.
  - (۴) دعوت به خیر و نیکی در شخص موجب تعهد می شود.
- ❑ پاسخ سایت ایران عرضه: گزینه ۲ ➡ زیرا انسانی که قرار است مورد دعوت به خیر و نیکی قرار بگیرد؛ ابتدا به کردار و رفتار انسان دعوت کننده نگاه میکند.

۲- اگر نمازگذار بداند در لباسش نخ یا دکمه یا چیز دیگری غصبی است و نماز بخواند، .....

- (۱) باید آن نماز را با لباس غیرغصبی اعاده نماید.
- (۲) بهتر است آن نماز را با لباس غیر غصبی اعاده نماید.
- (۳) بنا به احتیاط مستحب، نمازش باطل است و باید اعاده نماید.
- (۴) چون مقدارش کم است، نماز خواندن با آن بلااشکال است.

۳- آیه شریفه (و ان علیکم الاحفاظین کراماً کاتبین یعلمون ما تفعلون) اشاره به کدامیک از شاهدان و گواهان روز حساب و در کدام مرحله از قیامت دارد؟

- |                                   |                                   |
|-----------------------------------|-----------------------------------|
| (۱) پیامبران و ائمه معصومین - اول | (۲) پیامبران و ائوه معصومین - دوم |
| (۳) فرشتگان و مأموران الهی - اول  | (۴) فرشتگان و مأموران الهی - دوم  |

۴- مضاربه، به کدام معنی است؟

- (۱) اجیرنمودن کسی برای تجارت و مزد دادن به اجیر.
- (۲) شریک شدن با دیگران برای تجارت به طور مساوی.
- (۳) مالی برای تجارت در اختیار دیگری نهادن و در سود و زیان آن شریک شدن.
- (۴) زمین یا باغی را در اختیار غیر نهادن و در سود و زیان آن شریک بودن

۵- غیبت صغرای امام عصر(ع) در کدام سال پایان یافت و علت اصلی این غیبت، کدام است؟

- (۱) ۳۲۹ ه.ق - خود مردم که شایستگی ظهور امام را ندارند.
- (۲) ۲۶۰ ه.ق - خود مردم که شایستگی ظهور امام را ندارند.
- (۳) ۲۶۰ ه.ق - حاکمان جور که مردم را از ظهور مایوس کردند
- (۴) ۳۲۹ ه.ق - حاکمان جور که مردم را از ظهور ایشان مایوس می‌کنند.



## ❖ فصل دوم: سوالات زبان و ادبیات فارسی

۱- در عبارت زیر، معنی واژه «غدر» کدام است؟ «یکی را از آنان که غدر کردند با من دم دوستی بود.»

- (۱) اسیر (۲) بی ارزش (۳) حيله (۴) دشمن

❑ پاسخ سایت ایران عرضه: گزینه ۳ ➡ غدر به معنی بی وفایی کردن، خیانت ورزیدن - بی وفایی، خیانت - مکر، حيله .

این نثر از گلستان سعدی می باشد.

۲- کدام گروه کلمه، فاقد «غلط املایی» است؟

- (۱) اعزاز و اکرام، ثقت و اطمینان، تضاد و تعارض  
(۲) سیلی و قفا زدن، غریب و آواره، قصد عظیمت  
(۳) خضوع و خشوع، یاری و معونت، تعسّی و پیروی  
(۴) آزمند و حریص، قریو شادی، پناه و ملجأ

۳- در کدام عبارت، غلط املایی وجود دارد؟ (متعلق به سایت ایران عرضه)

- (۱) همه شب در لجه لجاج خویش غوطه ندامت و غصّه آن حالت می خورد.  
(۲) خوش آوازی که به حنجره داوودی آب از جریان و مرغ از تیران باز دارد.  
(۳) به عذر ماضی در قدمش فتادند و بوسه چندی به نفاق بر سر و چشمش دادند.  
(۴) گروهی مردمان را دید، هر یک به قراضه ای در معبر نشسته و رخت سفر بسته.

۴- معنی «کم زنی» در عبارت زیر، کدام است؟

«هرگونه اهانت و ایذا را با خونسردی و «کم زنی» مقابله می کرد»

- (۱) بزرگواری (۲) بی توجهی (۳) تمسخر (۴) خوش خلقی

۵- آرایه های بیت زیر، کدام اند؟

«خشت وجود مرا خرد کن ای غم چو گرد      تا بکنم همچو گرد گرد سوارم طواف»

- (۱) تشبیه، حسن تعلیل، تشخیص، جناس  
(۲) تشبیه، جناس، کنایه، تشخیص  
(۳) کنایه، مجاز، حسن تعلیل، استعاره  
(۴) استعاره، تشبیه، تلمیح، مجاز

## ❖ فصل سوم: سوالات ریاضی و آمار مقدماتی

۱- در جدول زیر بجای علامت سوال کدام گزینه را می توان قرار داد؟ (متعلق به سایت ایران عرضه)

۱	۳۱	۲
۲	۵۲	۳
۳	۶۳	؟

(۱) ۳

(۲) ۲

(۳) ۴

(۴) ۱

❑ پاسخ سایت ایران عرضه: گزینه ۱ ⇐ اگر به اعداد ستون وسط در جدول توجه کنیم متوجه می شویم که رقم دهگان از حاصل جمع اعداد موجود در ستون های کناری بدست آمده است. به طور مثال داریم:

$$\underline{3}1 = 1 + 2$$

$$\underline{5}2 = 2 + 3$$

$$\underline{6}3 = 3 + 3$$

۲- ۱۱۴۰ ثانیه دیگر ساعت ۵ و ۳۰ دقیقه خواهد شد. الآن ساعت چند است؟

(۱) چهار و یازده دقیقه

(۲) پنج و چهل و نه دقیقه

(۳) پنج و یازده

(۴) چهار و پنجاه و یک دقیقه

۳- سعید بلندتر از مسعود و کوتاه تر از حمید است، حامد کوتاه تر از سعید اما بلندتر از مسعود است. قد کدام یک بلندتر از همه است؟

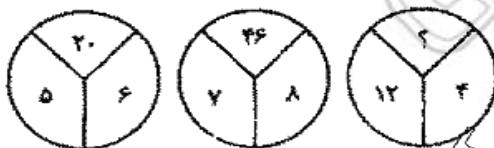
(۱) حمید

(۲) سعید

(۳) حامد

(۴) مسعود

۴- با توجه به شکل های مقابل مقدار؟ را بیابید:



(۱) ۱۶

(۲) ۱۸

(۳) ۳۸

(۴) ۵۸

۵- در دنباله حروف زیر حرف مجهول چه حرفی است؟ «ژ، ص، ر، ط، د، ع،؟»

(۱) ج

(۲) چ

(۳) ح

(۴) خ



## ❖ فصل چهارم: سوالات اطلاعات عمومی، دانش اجتماعی و حقوق اساسی

۱- کمترین مساحت بین استانهای ایران، متعلق به کدام استان است؟

- (۱) گیلان (۲) البرز (۳) تهران (۴) قم

❑ پاسخ سایت ایران عرضه: گزینه ۲ ⇐ استان البرز با ۵۸۳۳ کیلومتر مربع مساحت به لحاظ وسعت کوچکترین استان کشور است.

۲- قلعه دختر؛ از آثار باستانی کدام شهرستان است؟

- (۱) فیروزآباد فارس (۲) میبد یزد (۳) درود لرستان (۴) نائین اصفهان

۳- کتاب «اسلام و انسان معاصر»، اثر کیست؟ (ایران عرضه)

- (۱) دکتر شریعتی (ره) (۲) شهید مطهری (ره)  
(۳) شهید بهشتی (ره) (۴) علامه طباطبائی (ره)

۴- کدام نقاش معاصر ایرانی با تابلو «شقایق ها، جویبارها و تنه درخت»؛ تمایز سبکش با سایرین، در خلق آثار نیمه انتزاعی با فرم های هندسی است؟

- (۱) محمود جواد پور (۲) حسین بهزاد (۳) ناصر اویسی (۴) سهراب سپهری

۵- فعالیت سیاسی امام خمینی (ره)، به طور علنی از چه سالی و همزمان با کدام واقعه آغاز شد؟

- (۱) ۱۳۴۱) اعتراض به تصویب لایحه انتخابات انجمن های ایالتی و ولایتی  
(۲) ۱۳۴۱-سخنرانی به مناسبت روز عاشورا و چهلم شهدای مدرسه فیضیه  
(۳) ۱۳۴۲-سخنرانی به مناسبت روز عاشورا و چهلم شهدای مدرسه فیضیه  
(۴) ۱۳۴۲) اعتراض به تصویب لایحه انتخابات انجمن های ایالتی و ولایتی



## ❖ فصل پنجم: سوالات زبان انگلیسی عمومی

1- jeremy put in extra hours this afternoon to .....for his late arrival to work this morning.

- 1) collaborate      2) alleviate      3) accelerate      4) compensate

❑ پاسخ سایت ایران عرضه: گزینه ۴ ← عبارت compensate for به معنی جبران کردن میباشد.

جرمی با توجه به دیر رسیدنش به سرکار در صبح امروز؛ ساعت بیشتری از بعد از ظهر را برای جبران کردن آن می ماند.

2-i would not have been able to..... my academic goals without that support and guidance of my professors. {iranarze.ir}

- 1) attain      2) assist      3) assign      4) annex

3- since tom never wears shoes, it was .....that he would get a piece of glass in his foot.

- 1) fashionable      2) profitable      3) capable      4) inevitable

4- as a result of ....., an item that used to cost eighty cents now cost on dollar and fifty cents.

- 1) instruction      2) inhibition      3) inflation      4) inspection

#### part b: reading comprehension

directions: read the following passage and select the choice (1), (2), (3) or (4) that best answers each question. then mark the correct choice on your answer sheet.

karl friedrich benz was a mechanical engineer who designed and built the world's first practical automobile to be powered by an internal-combustion engine.in 1883 he founded benz & co. in mannheim to build stationary internal-combustion engines, but he was completely dedicated to the proposition that the internal-combustion engine would supersede the horse and revolutionize the world's transportation. he persisted in his effort to build a gasoline fueled vehicle in the face of many obstacles, including lack of money to the point of poverty and the bitter objections of his associates, who considered him in competent.

benz ran his first car, a three wheeler powered by a two-cycle, one-cylinder engine, on a happy and triumphant day early in 1885. he circled a cinder track beside his small factory, his workmen running beside the car, his wife running too, clapping her hands; the little machine made four circuits of the track, stalling only twice before a broken chain stopped it. even max rose, benz's skeptical partner, whose money had made the car possible, conceded that he was mildly impressed; but he remained convinced to the end of his association with benz that there was no future in the horseless carriage.the original benz three-

wheeled vehicle, the motor wagen, is now preserved in munich. although it first ran early in 1885, its design was not patented until jan. 29, 1886.

5- what is the passage mainly about?

- 1) karl benz`s effort to make the first automobile.
- 2) karl benz`s personal life
- 3) karl benz`s talent in engineering
- 4) karl benz`s factory in mannheim.



## ❖ فصل ششم: سوالات هوش و توانمندی های عمومی

راهنمایی: متن زیر را به دقت خوانده و صحیح ترین پاسخ را برای سوال های ۱ تا ۴ انتخاب کنید

به باور متخصصان، طراحی شهری حدود پنجاه سال پیش، به صورت حوزه ای نسبتاً مستقل با هدف انتقاد به معماری مدرن در کشورهای فراصنعتی شکل گرفت. از حدود یک دهه پس از آن، اولین متون مرتبط با این دانش به صورت ترجمه شده در متون علمی ایران وارد شد. [۱] از این دوران به بعد، کتاب های چندی توسط شهرسازان، طراحان شهری معماران تألیف، ترجمه و گردآوری شد. مقایسه متون طراحی شهری ایران با منابع متنوعی که در حوزه جهانی طراحی شهری انتشار یافته، نشان می دهد تألیف های صورت گرفته در ایران در جهت زایش علمی - به گونه ای که به عنوان مرجع طراحی شهری در مجامع علمی جهانی مورد استفاده قرار گیرند - نبوده است. لذا ابتدا وضعیت دانش طراحی شهری در ایران با تأکید بر مقایسه تحلیلی با متون جهانی در حوزه های نظری و علمی بررسی گردیده است. از این منظر زمان پیدایش هر یک از حوزه ها در ایران نیز مورد مداقه قرار گرفت. [۲] تعادل میان مباحث مختلف دانش در ایران سنجیده شد. بنابراین سعی بر این بوده است نقاط قوت و ضعف متون طراحی شهری در ایران سنجیده شود تا مقدمه ای برای پیشرفت دانش و یا بازنگری در جهت گیری موجود فراهم آید.

بررسی وضعیت و طبقه بندی متون جهانی طراحی شهری به طرق گوناگونی انجام شده، اما تاکنون چنین بررسی در مورد ایران صورت نگرفته است. [۳] ضرورت چنین مطالعه ای این است که با وجود گذشت چهار دهه از ورود این دانش به ایران که مدت زمان قابل توجهی برای مناسب سازی و تولید دانش بوده است، این دانش در وضعیت مطلوبی قرار ندارد و این به معنای وجود مسئله ای در ساختار تولید دانش است. احتمالاً اگر روند کنونی ادامه یابد، طراحی شهری ایران از زایش علمی مطلوبی باز می ماند و با جهت گیری نادرست پژوهش ها، کمبودها در حوزه های مختلف پررنگ تر می شود. [۴] لذا این بحث، بدنه متون طراحی شهری در ایران و همچنین ضعف های آن را به دانشجویان و دانش پژوهان برای انجام مطالعات و تحقیقات علمی معرفی کرده و راهکارهایی برای غلبه بر ضعف ها ارائه نموده است.

۱- بر اساس متن، کدام مورد در خصوص طراحی شهری در ایران صحیح است؟

(۱) از منظر تولید دانش، به مرحله رشد و پویایی نرسیده است.

(۲) منبع الهام معماری مدرن در کشورهای فراصنعتی بوده است.

(۳) علی رغم پیشرفت در حوزه علمی، در حوزه های نظری وضعیت مطلوبی ندارد.

(۴) در چند دهه گذشته، شاهد نوآوری هایی بوده است.

❑ پاسخ سایت ایران عرضه: گزینه ۱ ➡ با توجه به بند دوم سطر ۲ به بعد

۲- معنی واژه «مداقه» در پاراگراف اول کدام است؟

(۱) قبول (۲) نقد (۳) توجه (۴) مقایسه

۳- جمله زیر، در کدام یک از بخش های متن که با شماره مشخص شده اند، قرار می گیرد؟

«به عبارتی دیگر، یکی از ضرورت های بحث، تعیین حوزه های مهم لحاظ نشده در ایران، در مقایسه با مهم ترین منابع طراحی شهری دنیا است.»

[۴] (۴)

[۱] (۳)

[۲] (۲)

[۳] (۱)

#### ۴- موضوع اصلی پاراگراف بعد از متن، کدام است؟

- (۱) بررسی تحلیلی متون طراحی شهری در ایران
  - (۲) معرفی ضعف های موجود در منابع طراحی شهری دنیا
  - (۳) تحقیقات انجام شده در حوزه طراحی شهری در ایران
  - (۴) راهکارهایی برای افزایش تولید دانش در ایران
- ۵- کار خیر آسانی که امروز می خواهیم پیشنهاد کنیم، تعریف کردن از کارهای دیگران و تایید کردن آنهاست. پس امروز سعی می کنیم که اگر کسی را می شناسیم که کار خیری کرده است یا اگر در خانه، همسر یا فرزندمان کار خوبی انجام می دهند، از انجام آن کار، حتی اگر دقیق و عالی نبوده، تعریف کنیم و بگوییم که تا چه حد کارشان مؤثر است. کدام مورد، در صورتی که صحیح فرض شود، به بهترین وجه، توصیه مطرح شده در متن را تقویت می کند؟
- (۱) بسیاری از افراد، آنقدر درگیر مسائل شخصی خود هستند که از کارکرد اطرافیان شان غافل می مانند.
  - (۲) تحقیقات نشان می دهد که افرادی که از دیگران تعریف می کنند، بیشتر زبردستان هستند و نه بالا دستی ها.
  - (۳) تعریف کلامی از کار خوب دیگران، اگر با جایزه ای خاص، مثلاً پاداش ملی همراه باشد، کارایی بیشتری در افزایش بهره وری افراد دارد.
  - (۴) آدم ها نیاز به تأیید شدن دارند و این تأیید شدن از سوی دیگران، حال خوبی به آنها می دهد.

## ❖ فصل هفتم: سوالات فناوری اطلاعات

۱- کدام مورد، می تواند یک کامپیوتر را آلوده به ویروس کند؟

- (۱) اضافه کردن امضای الکترونیکی به یک پیام  
 (۲) باز کردن فایل الحاقی به یک پیام الکترونیکی  
 (۳) انتقال یک پیام الکترونیکی باز نشده به یک پوشه مشخص  
 (۴) حذف یک پیام الکترونیکی باز نشده
- ❑ پاسخ سایت ایران عرضه: گزینه ۲ ➡ باز کردن یک فایل الحاقی در کنار نامه‌ی الکترونیکی می‌تواند سیستم را آلوده به ویروس نماید.

۲- بخشی از یک وب سایت داخلی یک شرکت که برای تعدادی از مشتریان قابل دسترسی است، چه نامیده می شود.

- Network (۱) Intranet (۲) Internet (۳) Extranet (۴)

۳- فرض کنید در محل کارتان، کامپیوترها به یکدیگر متصل شده اند، به طوری که کارمندان می توانند فایل ها و پرینتر را با یکدیگر به اشتراک بگذارند. در اتصال کامپیوترها به یکدیگر، از کدام نوع شبکه استفاده ده است؟

- ISDN (۱) LAN (۲) TCP/IP (۳) WAN (۴)

۴- در محیط Windows، کدام مورد جهت بزرگ کردن اندازه یک پنجره مناسب است، به طوری که تمام صفحه نمایش را در بر گیرد؟



(۴)



(۳)



(۲)



(۱)

۵- اگر بخواهیم بدون استفاده از ماوس، اندازه یک پنجره را تغییر داده و یا آن را حرکت دهید، از کدام مورد استفاده می کنید؟

- Alt + Space (۱) Ctrl + Shift (۲) Shift + Alt (۳) کلید پنجره روی صفحه کلید (۴)

## ❖ فصل هشتم: سوالات شناخت تامین اجتماعی

۱- کدام گزینه از اهداف تشکیل بیمه تامین اجتماعی نمی باشد؟

(۱) تعمیم و گسترش انواع بیمه های اجتماعی

(۲) اجراء انواع بیمه های اجتماعی

(۳) استقرار نظام هماهنگ و مناسب با برنامه های تامین اجتماعی

(۴) کسب درآمد و تامین بخشی از بودجه دولت

❑ پاسخ سایت ایران عرضه: گزینه ۴ ← سازمان تامین اجتماعی به منظور اجراء، تعمیم و گسترش انواع بیمه های اجتماعی و استقرار نظام هماهنگ و مناسب با برنامه های تامین اجتماعی تشکیل و مشمولین آن با پرداخت حق بیمه تحت ضوابط و مقررات مندرج در قانون از تسهیلات کوتاه مدت و بلند مدت آن بهره مند می گردند.

۲- کدامیک از افراد ذیل بر اساس ماده ۴ قانون تامین اجتماعی از مشمولین قانون تامین اجتماعی نمی باشد؟

(۱) افرادی که به هر عنوان در مقابل دریافت مزد یا حقوق کار میکنند

(۲) مشمولین قانون استخدام نیروهای افزارمندان

(۳) دریافت کننده گان مستمری های بازنشستگی، از کارافتادگی و فوت

(۴) گزینه ۲ و ۳

۳- بیمه شده از نظر قانون تامین اجتماعی چه کسی است؟

(۱) فردی است که رأساً مشمول مقررات قانون تامین اجتماعی بوده.

(۲) فردی که با پرداخت مبالغی به عنوان حق بیمه حق استفاده از مزایای مقرر در این قانون را دارد.

(۳) شخص یا اشخاصی هستند که به تبع بیمه شده اصلی از مزایای موضوع قانون استفاده میکنند.

(۴) ۱ و ۲

۴- طبق قانون چند درصد بیمه از حقوق و مزایای مشمول کسر حق بیمه کارفرما به بیمه شده از سوی کارفرما به بیمه از

سازمان پرداخت می گردد؟

(۱) ۲۵% (۲) ۲۷% (۳) ۳۵% (۴) ۲۰%

۵- غرامت دستمزد: به وجوهی اطلاق می شود که ..... .

(۱) به منظور اعاده سلامت یا برای جبران نقص جسمانی پرداخت می شود.

(۲) در ایام بارداری به بیمه شده پرداخت می شود.

(۳) هنگام عدم توانایی موقت فرد شاغل به کار و عدم دریافت مزد یا حقوق پرداخت می شود.

(۴) ۲ و ۳

## ❖ فصل نهم: اصل سوالات آزمون استخدامی شرکت کار و تامین سال ۱۳۹۹

۱- برای ویرایش یک فایل متنی، از چه نرم افزاری استفاده میشود؟

NotePad (۱) WordPad (۲) WORD (۳) همه موارد (۴)

❑ پاسخ سایت ایران عرضه: گزینه ۴ ➡ تمامی نرم افزار های ذکر شده در گزینه ها از نرم افزار های ادیت فایل های متنی میباشد که تنها تفاوت آنها در امکاناتی است که ارائه میکنند.

۲- با انتخاب کدام یک از گزینه های زیر، بدون مصرف زیاد برق، کامپیوتر روشن خواهد ماند؟

shutdown (۱) hibernate (۲) sleep (۳) همه موارد (۴)

۳- اگر بخواهیم از ویروسی شدن و حذف شدن فایل هایمان جلوگیری کنیم، اطلاعات خود را روی کدام یک از ابزار های زیر ذخیره کنیم؟

(۱) فلش مموری (۲) درایو های مختلف هارد دیسک

(۳) سی دی (۴) هارد اکسترنال

۴- ظرفیت های فلش مموری های معمول در بازار، در کدام محدوده قرار دارد؟

(۱) یک تا ۱۲۸ کیلو بایت (۲) یک تا ۱۲۸ مگابایت

(۳) یک تا ۱۲۸ گیگابایت (۴) یک تا ۱۲۸ ترابایت

۵- کدام یک از پسوند های زیر برای فایل های متنی استفاده میشود؟

PDF (۱) doc (۲) ppt (۳) avi (۴)

۶- برای جستجوی تمام فایل های با پسوند abc در کامپیوتر، در بخش جستجو، کدام عبارت را وارد میکنیم؟

(۱) \* \*abc (۲) abc.\* (۳) \*.abc (۴) \*.abc ?

۷- اصلی ترین کاربرد نرم افزار اکسل کدام یک است؟

(۱) تایپ فایل های متنی (۲) تحلیل و پردازش داده ها

(۳) ویرایش فایل تصویری (۴) نگهداری بانک اطلاعات

۸- در صورت خراب شدن یا بیرون آوردن باتری روی مادربرد یک کامپیوتر رومیزی، چه اتفاقی میافتد؟

(۱) خاموش شدن سیستم (۲) پاک شدن همه اطلاعات روی هارد دیسک

(۳) به هم ریختن ساعت کامپیوتر (۴) کامپیوتر رومیزی باتری ندارد

۹- از کدام یک از وسایل زیر، برای boot کردن یک کامپیوتر رومیزی استفاده نمیشود؟

CD (۱) flash (۲) HDD (۳) Motherboard (۴)

۱۰- کدام یک از اصطلاحات زیر در ایمیل استفاده نمیشود؟

Subject (۱) from (۲) BCC (۳) TCC (۴)



## ۱۱- اصطلاح Homepage در مرورگر های اینترنتی به چه معناست؟

- (۱) صفحه شخصی کاربر  
(۲) پر مراجعه ترین وب سایت کاربر  
(۳) صفحه پیش فرض در هنگام باز شدن مرورگر (۴) اولین صفحه مشاهده شده توسط کاربر
- ۱۲- در نرم افزار Word، در صورتی که مکان نما در ابتدای پاراگراف باشد، کلید های ترکیبی Shift+ctrl+↓ چه کاری را انجام خواهند داد؟

- (۱) انتخاب کل متن صفحه  
(۲) انتخاب اولین کلمه پاراگراف  
(۳) انتخاب اولین خط پاراگراف  
(۴) انتخاب کل متن پاراگراف
- ۱۳- وقتی در نرم افزار اکسل، فایل جدیدی ایجاد میکنیم، نام پیشفرض آن فایل چه خواهد بود؟

- (۱) Database (۲) Document (۳) presentation (۴) Book

## ۱۴- در کدام یک از اجراء زیر در اکسس، میتوان داده های خام را ذخیره کرد؟

- (۱) Report (۲) form (۳) table (۴) query

## ۱۵- برای اضافه کردن یک اسلاید در پاورپوینت، کدام کلید ترکیبی کاربردی ندارد؟

- (۱) Ctrl + N (۲) Ctrl + D (۳) Ctrl + Enter (۴) Ctrl + M

## ۱۶- در انجام هر عمل باید نیت درونی و قلبی انسان الهی باشد و هم مطابق با شکلی که خدا فرمان داده است. انجام شود شرط اول را.....و شرط دوم را.....می نامند.

- (۱) حسن فعلی\_حسن فاعلی  
(۲) حسن فاعلی\_حسن فعلی  
(۳) هر دو حسن فعلی هستند  
(۴) هر دو حسن فاعلی هستند.
- ۱۷- دعوت قرآن کریم به تفکر و تعقل در آیات و نشانه های الهی به چه مقصودی است؟
- (۱) تقویت روحیه حق پذیری  
(۲) افزایش معرفت به خداوند  
(۳) انجام عمل صالح  
(۴) یاد معاد و روز حساب

## ۱۸- کدامیک از نشانه های اختیار است؟

- (۱) تفکر و تصمیم  
(۲) احساس رضایت یا پشیمانی  
(۳) مسئولیت پذیری  
(۴) همه موارد صحیح هستند

## ۱۹- امداد خاص خدای متعال نسبت به آنان که به نیت پاک، قدم در راه حق گذارند و سعادت جهان آخرت و رضایت پروردگار را هدف خود قرار دهند.....نام دارد.

- (۱) توفیق الهی (۲) املاء و استخراج (۳) امداد الهی (۴) امتحان

## ۲۰- کدامیک از نماز های زیر واجب نیست؟

- (۱) نماز شب اول قبر (وحشت)  
(۲) نماز میت

۲۱- اولین ثمره اخلاص کدام است؟

۱) عدم نفوذ شیطان در انسان و یاس او از فرد با اخلاص

۲) احساس اطمینان و آرامش درونی

۳) احساس لذت واقعی از زندگی

۴) انجام عمل صالح

۲۲- کدامیک از عوامل عصمت نمی باشد؟

۱) شایستگی ذاتی

۲) مجاهدت های فردی و اجتماعی

۳) عنایت خداوند

۴) عمل به تعالیم دین

۲۳- بر اساس آیات مختلف مهمترین فایده روزه کدام است؟

۱) یاد خدا

۲) تقوا

۳) دوری از گناه

۴) رسیدن به عزت الهی

۲۴- کدام یک از شروط زیر از شرایط مرجع تقلید نمی باشد؟

۱) عادل بودن

۲) زمان شناس باشد و بتواند احکام دین را متناسب با نیاز روز به دست آورد.

۳) اعلم بودن

۴) مدیر و مدبر بودن

۲۵- کدام یک از موارد ذیل بر ضرورت معاد دلالت دارد؟

۱) لازمه حکمت الهی

۲) اشاره به پیمایش نخستین انسان

۳) لازمه عدل الهی

۴) موارد الف و ج

Direction: choose the word or phrase (a)+ (b)+ (c) or (d) that best completes each sentence.

26- sill doesn't seem to be..... To help us, so let's ask someone else to give us a hand

1) willing

2) healthy

3) safe

4) shy

27- we have no..... of staying indoors on a sunny day like this.

1) judgement

2) effort

3) effect

4) intention

28- To be..... With you, I don't like the hat you are wearing today.

1) compatible

2) suspicious

3) honest

4) generous

29- We hope that the land lord will..... the rent a little more.

1) enhanced

2) reduced

3) paid

4) increased

**30- You should ..... smoking, it's harmful for your health.**

- 1) keep on                      2) look for                      3) insist on                      4) give up

**31-I think Africa is..... continent in the word.**

- 1) the hottest                      2) hotter                      3) hottest                      4) hotter than

**32-The new engineer is not very experienced. He can't work ..... as the other engineers.**

- 1) as well                      2) good                      3) well                      4) as good

**33- In this week's column, I ..... you some tips on how to perform this most enjoyable activity.**

- 1) am going to give                      2) will give                      3) given                      4) have given

**34- Bargaining is a ritual ..... for centuries.**

- 1) exists                      2) has existed                      3) existed                      4) have existed

**35-American officials ..... that climate change presents a serious threat to national security.**

- 1) warned                      2) are warning  
3) has been warned                      4) have been warned

### Reading

**Direction: Read the passage and choose the best answer to each question:**

if you are like most people, your intelligence differs from season to season. You are probably a lot sharper in the spring than you are at any other time of the year. A scientist believes climate and temperature have a certain effect on our mental abilities. He found out that cool weather is much more helpful for better thinking than is summer heat. This does not mean that all people are less intelligent in the summer than they are during the rest of the year. Spring appears to be the best period of the year for thinking. One reason may be that in the spring, peoples' mental abilities are influenced by the same factors that all nature.

**36- Which statement is correct about spring?**

- 1) It has no affect peoples' mental abilities.  
2) It affects some peoples' mental abilities negatively.  
3) It makes all peoples' less intelligent in comparison to other seasons.  
4) It's the best period of the year for thinking.

**37-According to the passage .....**

- 1) Your intelligence is not the same all through the year.
- 2) Summer heat has no effect on your intelligence.
- 3) Most people think better in summer than in spring.
- 4) Spring is most peoples' favorite season.

**38- What is the main idea of the passage?**

- 1) How spring changes nature thoroughly.
- 2) How climates is influencing peoples' lives.
- 3) How weather and climate affect peoples' intelligence.
- 4) How mental abilities change the whole nature.

**39- The word "sharper" in line 3 means:**

- 1) more stupid
- 2) more intelligent
- 3) slower
- 4) worst

**40- Which sentence is correct according to the passage?**

- 1) Our intelligence may change as seasons change.
- 2) We enjoy cool weather because it has great influence.
- 3) Your mental abilities are more active in hot climates.
- 4) Scientists are a lot sharper than other people.

**۴۱- مفهوم دو اصطلاح (آنارشسیسم) و (لائیک) در کدام گزینه بیان شده است؟**

- (۱) تجدد گرایی - بدون دین و مذهب
- (۲) آزادی خواهی - جدایی دین از سیاست
- (۳) نداشتن دین و حکومت - بدون دین و مذهب
- (۴) آزادی خواهی - تجدد گرایی

**۴۲- بر اساس اصل ۷۳ قانون اساسی، شرح و تفسیر قوانین عادی در صلاحیت کدام نهاد است؟**

- (۱) مجمع تشخیص مصلحت نظام
- (۲) مجلس شورای اسلامی
- (۳) معاونت حقوقی رئیس جمهور
- (۴) شورای نگهبان

**۴۳- در مورد ترکیب اعضای بازنگری در قانون اساسی، تعداد کدام گزینه صحیح می باشد؟**

- (۱) ۵ نفر به انتخاب رهبری
- (۲) ۳ نفر از قوه قضائیه
- (۳) ۴ نفر از هیات وزیران
- (۴) ۱۲ نفر از نمایندگان مجلس شورای اسلامی

**۴۴- کدامیک از شرکت های زیر تابعه سازمان تامین اجتماعی نمی باشد؟**

- (۱) شرکت سرمایه گذاری خانه ایران
- (۲) شرکت پالایش نفت لاوان
- (۳) آهنگ آتیه
- (۴) گروه توسعه اقتصادی تدبیر

۴۵- بر اساس اصل ..... قانون اساسی، برخورداری از تامین اجتماعی از نظر بازنشستگی، بیکاری، پیری، از کار افتادگی، بی سرپرستی، در راه ماندگی، حوادث و سوانح، نیاز به مراقبت های پزشکی به صورت بیمه و غیره، چگونه حقی است؟

(۱) اصل ۲۹ - همگانی

(۲) اصل ۲۶ - لازم الاجرا

(۳) اصل ۲۹ - حقی که در ازای پرداخت بیمه لازم الاجرا است.

(۴) اصل ۲۶ - همگانی

۴۶- کدام کشور آسیایی به سرزمین هزار لبخند معروف است؟

(۱) ژاپن (۲) تایلند (۳) هند (۴) کره جنوبی

۴۷- علامت اختصاری سازمان تجارت جهانی کدام است و مقر آن در کجا قرار دارد؟

(۱) WTO - زوزیخ (۲) WFP - وین (۳) WTO - ژنو (۴) WMO - ژنو

۴۸- اولین مدال ایران در مسابقات المپیک توسط چه کسی بدست آمد؟

(۱) محمود نامجو (۲) امام علی حبیبی (۳) غلامرضا تختی (۴) جعفر سلمانی

۴۹- آخرین سوره ای که بر پیامبر (ص) نازل شده استف سوره ..... است.

(۱) جن (۲) توبه (۳) ناس (۴) نصر

۵۰- ایران با چند کشور مرز خاکی مشترکی دارد؟

(۱) ۷ کشور (۲) ۶ کشور (۳) ۸ کشور (۴) ۵ کشور

## هوش و توانمندی های عمومی

۵۱- به جای علامت سوال، کدام عدد را می توان قرار داد؟

(۹،؟)، (۴،۶۴)، (۱،۱)

(۱) ۸۱ (۲) ۷۲۹ (۳) ۲۷ (۴) ۲۱۸۷

۵۲- علی در سال ۱۳۴۵ و رضا در سال ۱۳۴۸ متولد شده اند. اگر حسین از رضا جوان تر باشد، کدام رابطه سنی زیر بین این

افراد برقرار است؟

(۱) رضا بزرگتر از علی و کوچکتر از حسین است. (۲) رضا کوچکتر از علی و بزرگتر از حسین است.

(۳) علی بزرگتر از رضا و کوچکتر از حسین است. (۴) علی کوچکتر از رضا و بزرگتر از حسین است.

۵۳- مربع خالی را با چه عددی پر کنیم تا ترتیب کامل شود؟

(۱) ۳۴ (۲) ۴۸ (۳) ۶۴ (۴) ۱۲۸

۱۸	۲۰	۲۴	۳۲	
----	----	----	----	--

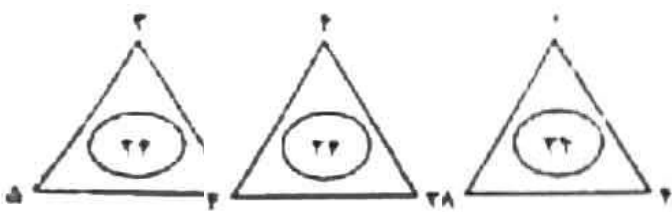
۵۴- کدام عدد آخرین مثلث را تکمیل می کند؟

(۱) ۵

(۲) ۶

(۳) ۲

(۴) ۳



پاسخ صحیح: با توجه به نامشخص بودن تصاویر، جواب قطعی نمیتوان به این مورد داد.

۵۵- اندازه طول سر ماهی ۹ سانتی متر و اندازه دم آن به اندازه سر به اضافه نصف تنه است، اگر تنه ماهی برابر با سر

بعلاوه دم باشد، طول ماهی چند سانتی نتر است؟

(۱) ۳۶ (۲) ۲۵ (۳) ۵۴ (۴) ۷۲

۵۶- رابطه ساعت با زمان، مثل رابطه...

(۱) هواسنج با گرما (۲) قطب نما است با قطب

(۳) دماسنج است با دما (۴) بادنما است با باد

۵۷- در یک دایره کدام دو خط نمیتوانند موازی باشند؟

(۱) یک شعاع و یک مماس (۲) دو مماس

(۳) دو قطر (۴) دو وتر

۵۸- کدامیک از اعداد زیر به ۷ نزدیکتر است؟

(۱)  $\frac{50}{7}$  (۲)  $7\frac{1}{8}$  (۳)  $7\frac{1}{6}$  (۴)  $7\frac{1}{5}$

۵۹- در صورتی که دو نقاش، دو اتاق را ظرف مدت دو ساعت رنگ بزنند، چند نفر لازم است تا ۱۸ اتاق را ظرف مدت ۶ ساعت

رنگ بزنند؟

(۱) ۶ نفر (۲) ۹ نفر (۳) ۱۲ نفر (۴) ۱۸ نفر

۶۰- خرگوشی در طول ۵ روز ۱۰۰ هویج خورده است، چنانچه هر روز ۶ هویج بیشتر از روز قبل خورده باشد، روز دوم چند

هویج خورده است؟

(۱) ۱۴ (۲) ۲۰ (۳) ۲۴ (۴) ۱۶

۶۱- جمع محصولات باغ سیب ۳ کشاورز در طول سال گذشته ۱۸ تن بوده است، اگر کشاورز ۲، ۳ برابر کشاورز ۳ و کشاورز

۱، ۲ برابر کشاورز ۲ برداشت کرده باشد، کشاورز ۲ چند کیلو برداشت کرده است؟

(۱) ۱۸۰۰ (۲) ۲۶۰۰ (۳) ۵۴۰۰ (۴) ۷۲۰۰

۶۲- ارتباط خاصی بین اعداد روبرو برقرار است به جای علامت سوال چه عددی قرار دهیم؟

۱	۲	۱
۱	۴	۴
۱	۶	۹
۱	۹	؟

۹ (۱)

۴ (۲)

۱ (۳)

۶ (۴)

## آشنایی اجمالی با سازمان تامین اجتماعی

۶۳- سازمان تامین اجتماعی یک.....است.

(۱) سازمان دولتی (۲) شرکت تعاونی

(۳) نهاد عمومی غیر دولتی (۴) شرکت سهامی

۶۴- کدامیک از ارکان سازمان نمی باشند؟

(۱) هیات امناء (۲) هیات مدیره (۳) سهامداران (۴) مدیر عامل

۶۵- چند نفر از اعضای هیات امناء با پیشنهاد وزیر تعاون، کار و رفاه اجتماعی تعیین می شوند؟

(۱) ۳ (۲) ۴ (۳) ۵ (۴) ۶

۶۶- بررسی و تدوین بودجه، صورت های مالی و عملکرد سالانه سازمان از وظایف و اختیارات ..... میباشد؟

(۱) هیات مدیره (۲) هیات امناء (۳) مدیر عامل (۴) هیات نظارت

۶۷- استقرار و عملیاتی نمودن ساختار و تشکیلات مصوب از وظایف و اختیارات ..... میباشد؟

(۱) هیات مدیره (۲) هیات امناء (۳) مدیر عامل (۴) هیات نظارت

۶۸- برپایی نظام سیاست گذاری سازمان در قلمرو منابع بیمه ای به نحوی که متضمن کسب بهنگام درآمد های موضوع قانون

تامین اجتماعی باشد، از وظایف کدامیکی از ادارات معاونت فنی و درآمد سازمان تامین اجتماعی میباشد؟

(۱) اداره کلامور فنی بیمه شدگان (۲) اداره کل امور فنی مستمری ها

(۳) اداره کل درآمد بیمه (۴) اداره کل نام نویسی و حساب های انفرادی

۶۹- کدامیک از بخش های زیر از الزامات بیمارستان عمومی نیست؟

(۱) داخلی (۲) ارتوپدی (۳) اطفال (۴) زنان و زایمان

۷۰- مسئولیت رسیدگی به وضعیت درمانی بیمه شدگان بیمار و حادثه دیده بر عهده کدام واحد است؟

(۱) کمیسیون های پزشکی (۲) رسیدگی به اسناد پزشکی

(۳) بهداشت حرفه ای و طب کار (۴) هیچکدام

۷۱- واحد ارائه دهنده خدمات جراحی های محدود، کدام است؟



۷۲- حسب ماده ۴، ..... از مشمولین تامین اجتماعی نمیشوند.

- (۱) صاحبان حرفه و شغل  
(۲) دریافت کنندگان مستمری های بازنشستگی و از کار افتادگی  
(۳) دریافت کنندگان مستمری فوت  
(۴) افرادی که به هر عنوان با حقوق یا بدون حقوق کار میکنند

## ◀ اخلاق کارگزاران/تکریم ارباب رجوع

۷۳- مهمترین تفاوت های اخلاق شغلی و اخلاق فردی چیست؟

- (۱) پیچیدگی تنوع پذیری  
(۲) تخصص گرایی پیچیدگی  
(۳) تنوع پذیری فردی بودن  
(۴) تنوع پذیری تخصص گرایی

۷۴- وجه تمایز جهان بینی اسلام با مکاتب دیگر چیست؟

- (۱) صرفا توجه به آخرت  
(۲) دنیا گریز بودن  
(۳) تک بعدی بودن انسان  
(۴) توجه به تمامی ابعاد انسان

۷۵- کدام گزینه در تحلیل مسئولیت پذیری فاقد اهمیت است؟

- (۱) جبر و اختیار  
(۲) فرماندهی  
(۳) مسئولیت در قبال اعمال  
(۴) مسئولیت فرد و گروه

۷۶- کدام رفتار انسان به راحتی به دیگران سرایت می کند؟

- (۱) خنده  
(۲) خوش رفتاری  
(۳) خوش خلقی  
(۴) خوش رویی

۷۷- مهمترین ویژگی لازم برای منابع انسانی کدام گزینه است؟

- (۱) اخلاق حرفه ای  
(۲) صلاحیت و توانمندی  
(۳) انتقاد پذیری  
(۴) امانت داری

۷۸- کدام گزینه میتواند عامل تشویق کننده تنبلی و تن پروری و یا پرکاری، تلاش، کیفیت و دقت در انجام کارها باشد؟

- (۱) فرهنگ سازمان  
(۲) منابع انسانی  
(۳) فضا و تجهیزات  
(۴) اخلاق حرفه ای

۷۹- کدام یک از راههای پیشگیری از شتابزدگی نیست؟

- (۱) تأمل قبل از عمل  
(۲) مشورت  
(۳) پشتیبانی  
(۴) تبدیل حسن ظن به سوء ظن

۸۰- مفهوم سعه صدر در علم روانشناسی کدام گزینه میباشد؟

- (۱) تاب آوری، .....  
(۲) پرهیز از شتابزدگی  
(۳) تبدیل حسن ظن به سوء ظن  
(۴) مشورت

۸۱- کدام گزینه از ویژگی های افرادی که اخلاق حرفه ای دارند، نیست؟

(۲) احترام به دیگران

(۱) صادق بودن

(۴) عدالت و انصاف

(۳) برتری جویی و شتابزدگی

۸۲- کدام گزینه موجب از بین رفتن تعادل و توازن اقتصادی در جامعه میشود؟

(۱) احتکار (۲) اسراف (۳) رشوه (۴) اختلاس

۸۳- شاکله و شخصیتی که در آن هوای نفس حاکم باشد کدام گزینه درست است؟

(۱) نفس اماره (۲) نفس لوامه (۳) نفس مطمئنه (۴) همه موارد

۸۴ - کدام مورد، زیربنای رفتار انسان میباشد؟

(۱) اراده (۲) تفکر (۳) اخلاق (۴) جهان بینی

۸۵- کدام گزینه جزء هفت وصف عمده (هفت ت) نیست؟

(۱) تحلیل (۲) توکل (۳) تعلق (۴) تحول

۸۶- کدام گزینه از اصول اساسی اخلاق در حوزه کسب و کار است؟

(۱) مشورت (۲) ثبات رفتاری (۳) وقت شناسی (۴) امانت داری

۸۷- کدام گزینه بیان کننده جمله زیر است؟

«دشمنی بزرگ نزد خداوند آن است که آنچه را که میگوئی، عمل نکنی»

(۱) طلب شر (۲) خلف وعده (۳) شکست و ناکامی (۴) شتابزدگی

## ❖ فصل دهم: اصل سوالات آزمون استخدامی شرکت کار و تامین سال ۱۴۰۱

راهنمایی: با توجه به شکل زیر به سوال های ۵ تا ۵ پاسخ دهید.

B2									
	A	B	C	D	E	F	G	H	I
۱		category/year	۲۰۱۰	۲۰۱۱	۲۰۱۲	۲۰۱۳	۲۰۱۴	۲۰۱۵	
۲		project A	۱۰۰۰۰	۱۰۳۵۱	۱۱۲۱۲	۱۱۷۲۴	۱۱۷۲۲	۱۲۱۵۱	
۳		project B	۵۰۰۰	۵۸۹۱	۶۵۵۷	۶۹۳۲	۷۸۰۲	۷۹۰۹	
۴		project C	۲۵۰۰	۲۷۲۱	۳۰۲۲	۳۹۸۹	۴۷۴۶	۵۲۳۸	
۵		project D	۲۵۰۰	۳۳۶۵	۳۳۹۳	۳۹۶۳	۴۷۴۶	۴۹۵۶	
۶									

۱- در صورتی که بخواهیم عملیات مرتب سازی و فیلتر به درستی کار کند، نوع داده سلول انتخاب شده، کدام باید باشد؟

(۱) Percentage (۲) Currency (۳) Text (۴) Time

❑ پاسخ سایت ایران عرضه: گزینه ۳ مرتب و فیلتر کردن به شما این اجازه را خواهد داد تا درون یک سند کاری (کاربرگ)

به دستکاری و مرتب نمودن داده های متنی (text) و عددی (numbering) در سلولهای هر ستون بپردازید.

۲- (منبع ایران عرضه) حاصل ( ۲۰۱۱، ۲۰۱۰، IF(C2>D2, ۲۰۱۰) کدام است؟

(۱) ۲۰۱۱ (۲) ۲۰۱۲ (۳) #VALUE! (۴) REE

۳- وجود در کنار سلول ها به چه معناست؟

(۱) فقط Sort (۲) فقط Filter (۳) sort and filter (۴) امکان اضافه کردن سلول جدید

۴- واحد سرعت انتقال داده در شبکه اینترنت، کدام است؟

(۱) Mpps (۲) hps (۳) ppm (۴) bps

۵- ایمیلی که از طریق نرم افزار Microsoft Outlook به آدرس info@sanjesh.org ارسال شده است کدام مورد در

خصوص این ایمیل در سمت گیرنده، صحیح است؟

(۱) این ایمیل، با ایمیل های دیگر، هیچ تفاوتی ندارد

(۲) این ایمیل، در پوشه ای جدا از ایمیل های دیگر، متمایز می شود.

(۳) در موضوع (Subject) این ایمیل می توان تشخیص داد که از طریق نرم افزار Outlook ارسال شده است.

(۴) در امضای (Signature) این ایمیل، می توان تشخیص داد که از طریق نرم افزار Outlook ارسال شده است.

۶- وجود کدام خصوصیت در عمل، به آن روح می بخشد؟

(۱) حفظ صورت عمل (۲) حسن فعلی

(۳) قصد و نیت خالص (۴) اخلاص در اندیشه

۷- توحید عبادی در فرد و در جامعه، به ترتیب، به کدام صورت تجلی پیدا می کند؟

(۱) اعتقاد خالص به خدا داشتن- اطاعت از پیامبر(ص)

(۲) اعتقاد خالص به خدا داشتن \_ تحقق قسط و عدالت

(۳) پرستش و اطاعت از خدا- اطاعت از پیامبر (ص)

(۴) پرستش و اطاعت از خدا -تحقق قسط و عدالت

۸- از آیه شریفه (( حتی اذا جاء احدهم الموت قال رب ارجعون...)) کدام مفهوم دریافت می گردد؟

(۱) تحقق مرگ فعالیت آگاهانه روح با جسم دوام می یابد

(۲) با تحقق مرگ فعالیت آگاهانه روح همچنان ادامه دارد

(۳) مرگ پایان بخش همه آرزوهای تحقق نیافته است

(۴) اعمال نادرست انجام شده، قابل جبران نیست

۹- گذشته سرخ و آینده سبز به ترتیب از عوامل پویایی کدام جامعه است وافرادش موصوف به چه وصفی اند ؟

(۱) توحیدی- منتظر (۲) شیعه - منتظر (۳) توحیدی - معترض (۴) شیعه -معترض

۱۰- باتوجه به آیه شریفه «الم تجعل الذین امنوا و عتقوا الصداقات فالملفسدین من فی الارض» کدام مورد تحقق می یابد؟

(۱) تمایلات و گرایش های انسان ها با قراردادن پاسخ مناسب آنها در جهان آخرت

(۲) رشد و شکوفایی استعدادها و سرمایه های مختلف به وجود نهاده شده در انسان

(۳) اراده الهی در واقعه بزرگ و با عظمت معاد باتوجه به قدرت خداوند

(۴) وعده های خداوند در دستیابی همه انسان ها به نتایج اعمالشان

۱۱- به ترتیب، در کدام مرحله زیر، نیکوکاران و بندگان تمایز اساسی پیدا می کنند و بدکاران برای نجات خویش از مهلکه

قیامت، به چه روشی متوسل می شوند؟

(۱) دادن نامه اعمال- نامه حسرت و توبه (۲) حضور شاهدان - نامه حسرت و توبه

(۳) دادن نامه اعمال- سوگند دروغ (۴) حضور شاهدان- سوگند دروغ

۱۲- تصرف در عالم خلقت به اذن خداوند، نشانه وصول به کدام مرتبه ولایت است؟

(۱) تشریعی (۲) ظاهری (۳) معنوی (۴) جزایی

۱۳- عبارت «من کنت مولا فلهذا علی مولا» به دنبال ابلاغ کدام آیه شریفه بیان شد؟

(۱) «یا ایها الذین امنوا اطیعوا الله و اطیعوا الرسول و ...»

(۲) «انما یزید الله لیزهد عنکم الرجس اهل البیت...»

(۳) «انما ولیکم الله و رسوله و الذین امنوا الذین ...»

(۴) «یا ایها الرسول ینع ما انزل الیک من ربک ...»

۱۴- به ترتیب، چه کسی خلافت را به سلطنت تبدیل کرد و کدام جنگ را علیه امیرالمومنین علی (ع) به راه انداخت؟

- (۱) معاویه - صفین  
(۲) ابوسفیان- صفی  
(۳) معاویه - جمل  
(۴) ابوسفیان- جمل

۱۵- کدام یک، به ترتیب، جزو «حق رهبر بر مردم» و «حق مردم بر رهبر» است؟

- (۱) استقامت و پایداری در برابر مشکلات - حفظ استقلال کشور  
(۲) تلاش برای اجرای احکام و دستورات الهی - حفظ استقلال کشور  
(۳) استقامت و پایداری در برابر مشکلات - مشارکت در نظارت همگانی  
(۴) تلاش برای اجرای احکام و دستورات الهی- مشارکت در نظارت همگانی

۱۶- (منبع سوالات سایت ایران عرضه) در کدام عبارت «کژتابی» مشهود است؟

- (۱) آثار ادبی ایران آیین اندیشه ها، هنرمندی ها و عظمت روحی و معنوی ملت ایران است.  
(۲) صدایی که به گوشم رسید حزین ترین و عاشقانه ترین لحنی بود که در عمرم شنیده بودم.  
(۳) عبور هواپیما از روی دریای مدیترانه همیشه آدمی را غرق دریای تصورات تاریخی می کند.  
(۴) در زمینه تعلیم و تربیت مسئولین دانشگاه ها با دانشجویان مثل کودکان برخورد می کنند.

۱۷- کدام صفت ها به ترتیب «فاعلی، مفعولی و نسبی» است؟

- (۱) درخشنده- سیمینه- آشامیدنی  
(۲) شکسته- ستودنی- آهنین  
(۳) روشنگر- پرورده- کودکانه  
(۴) آسمانی- سازنده- عقلانی

۱۸- نقش قسمت های مشخص شده، به ترتیب، کدام است؟

« جو فروش است آن نگار سنگدل با من او گندم نمایی می کند»

- (۱) مسند- نهاد- متمم  
(۲) نهاد- متمم- مضاف الیه  
(۳) نهاد- مسند- متمم  
(۴) مسند- متمم- مضاف الیه

۱۹- (منبع فروشگاه اینترنتی ایران عرضه) معنی کدام واژه، (نادرست) است؟

- (۱) مسحور: شیفته  
(۲) دها: گستاخ  
(۳) مسامحه: ساده انگاری  
(۴) رُستن: رها شدن

۲۰- در کدام گروه کلمه، ((غلط املایی)) وجود دارد؟

- (۱) مسخر و مطیع کردن - میغ و سحاب - موهبت و دهش  
(۲) مبهوت و متحیر - گیاه مگیلان - فراست و هوش  
(۳) هیاهو و غوغا - ملحق و پیوسته شده - آذرخش و صائقه  
(۴) خوض نمودن و تفکر- حزن و اندوه - صنع و آفرینش

۲۱- پدید آورنده هر یک از آثار رو به رو، به ترتیب چه کسی است؟ (( روضه خلد - مخزن الاسرار - چهار مقاله ))

(۱) مجد خوافی- نظامی گنجه ای - نظامی عروضی

(۲) مجد خوافی - نظامی عروضی - خواجه نصیر الدین توسی

(۳) عنصرالمعالی کیکاووس- نظامی گنجه ای - محمد بن منور

(۴) خواجه نصیر الدین توسی - سعد الدین وراویسی - نظامی گنجه ای

۲۲- ایران عرضه! کدام بیت، ((فاقد)) آرایه ایهام است؟

(۱) چون جام شفق موج زند خون به دل من با این همه دور از تو مرا چهره زردی است

(۲) بی مهر رخت روز مرا نور نمانده است وز عمر مرا جز شب دیجور نمانده است

(۳) باز آ که در فراق تو چشم امیدوار چون گوش روزه دار بر الله اکبر است

(۴) عنایتی که تو را بود اگر مبدل شد خلل پذیر نباشد ارادتی که مراست

۲۳- معنی عبارت (( اجل ناآمده، مردم را حسد بکشد ))، کدام است؟

(۱) انسان حسود، مردم را قبل از اینکه مرگشام فرا برسد، می کشد

(۲) حسادت باعث مرگ مردم می شود، قبل از اینکه مرگشان فرا برسد

(۳) حسادت همچون اجل معلق مردم را از پای در می آورد و ناوبد میکند.

(۴) مادام که انسان زنده باشد و اجلش فرانسیده، حسادت انسان هارا به طرف خود می کشد

۲۴- در بیت زیر، شاعر چه امری را نکوهش می کند؟

(( چو کاری بی فضول من برآید مرا در وی سخن گفتن نشاید ))

(۱) سکوت (۲) دخالت بی جا (۳) خودنمایی (۴) سخن گفتن

۲۵- مفهوم کدام بیت، با سایر ابیات، تفاوت دارد؟

(۱) نشستنی به جای دگر کس بسی نشیند به جای تو دیگر کسی

(۲) چو از چابکان در دویدن گرو نبردی هم افتادن و خیزان برو

(۳) به غفلت بدادی ز دست آب پاک چه چاره کنون جز تیمم به خاک

(۴) گر آن بادپایان برفتند تیز تو بی دست و پای از نشستن بخیز

۲۶- نقش برجسته گل گل از جاذبه های گردشگری کدام استان کشور است؟

(۱) ایلام (۲) کرمانشاه (۳) فارس (۴) بوشهر

۲۷- در قانون اساسی در خصوص کدام مقام زیر تصریح شده است که باید مجتهد، عادل و آگاه به امور قضائی باشد؟

(۱) رئیس دیوان عالی کشور (۲) رئیس دیوان محاسبات کشور

(۳) رئیس سازمان بازرسی کل کشور (۴) رئیس دیوان عدالت اداری

۲۸- آبشار سیمک، از جاذبه های طبیعی کدام استان است؟

- (۱) اصفهان (۲) کرمان (۳) خراسان جنوبی (۴) سیستان و بلوچستان

۲۹- ترکیب بند با مطلع «باز این چه شورش است که در خلق عالم است»، از کدام شاعر مرثیه سرای قرن دهم هجری است؟

- (۱) وحشی بافقی (۲) خاقانی شروانی (۳) محتشم کاشانی (۴) هاتف اصفهانی

۳۰- آخرین دوره انتخابات مجلس شورای اسلامی، در چه سالی برگزار شد؟

- (۱) ۱۴۰۰ (۲) ۱۳۹۹ (۳) ۱۳۹۸ (۴) ۱۳۹۷

۳۱- - طراحی شده توسط ایران عرضه - کدام شخص، از فرماندهان لشکر ۲۷ محمد رسول الله است که پس از آزادی

خرمشهر، به همراه هیئتی رسمی از مسئولان سیاسی و نظامی به سوریه اعزام شد؟

- (۱) محمد جهان آرا (۲) احمد متوسلیان  
(۳) محسن ریاضی (۴) علی صیاد شیرازی

۳۲- حرم مطهر حضرت علی (ع)، در کدام شهر است؟

- (۱) سامرا (۲) کوفه (۳) کاظمین (۴) نجف

۳۳- کدام مورد زیر، مصداق تفویض اختیار قانون گذاری مجلس شورای اسلامی به دولت به شمار می آید؟

- (۱) امکان تصویب آیین نامه های اجرایی (۲) امکان تصویب آیین نامه های مستقل  
(۳) اجازه تصویب اساسنامه سازمان های دولتی (۴) صلح دعاوی راجع به اموال عمومی و دولتی

۳۴- براساس آخرین اساسنامه سازمان تأمین اجتماعی، مدیرعامل آن، چگونه انتخاب می شود؟

- (۱) با حکم وزیر تعاون، کار و رفاه اجتماعی (۲) با تصویب هیئت وزیران  
(۳) با رأی هیئت مدیره سازمان (۴) با نظر رئیس جمهور

۳۵- در قانون اساسی، از «شوراها» با چه عنوانی یاد شده است؟

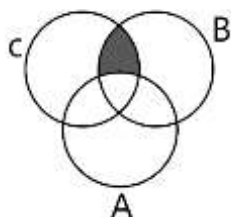
- (۱) واحدهای بنیادی جمهوری اسلامی  
(۲) ارکان تصمیم گیری و اداره امور کشور  
(۳) فضای مشارکت عامه مردم در تعیین سرنوشت  
(۴) وسیله جلب همکاری در تهیه برنامه ها و هماهنگی امور

۳۶- حاصل عبارت  $\frac{3^4}{9-1} \div \frac{3^2}{\sqrt{81}}$  کدام است؟

- (۱) ۷۲۹ (۲) ۲۴۳ (۳) ۸۱ (۴) ۲۷



۳۷- کدام مجموعه زیر برابر ناحیه هاشور خورده در نمودار ون رو به رو است؟



(۱)  $B \cap C$

(۲)  $A \cap B \cap C$

(۳)  $(B \cap C) - A$

(۴)  $A - (B \cap C)$

۳۸- اگر  $f\left(X + \frac{1}{X}\right) = X^3 + \frac{1}{X^3}$  باشد مقدار  $f(4)$  کدام است؟

(۴) ۵۲

(۳) ۵۸

(۲) ۶۲

(۱) ۶۴

۳۹- در یک دنباله حسابی که جمله اول برابر ۲۰۸ و قدر نسبت ۴- است، عدد صفر، جمله چندم این دنباله است؟

(۴) ۵۱

(۳) ۵۲

(۲) ۵۳

(۱) ۵۴

۴۰- (منتشر کننده سوالات ایران عرضه) مقادیر  $\alpha$ ،  $\beta$  ریشه های معادله  $Xx^2 + 5x - 2 = 0$  هستند.

اگر  $\alpha > 0$  حاصل  $|A + 2B| + ||B| - |a|$  کدام است؟

(۴)  $\beta$

(۳)  $-2\alpha$

(۲)  $\alpha + 3\beta$

(۱)  $-2\alpha - 3\beta$

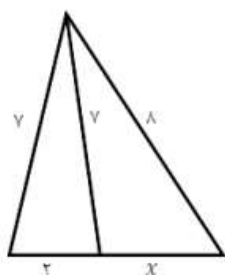
۴۱- مقدار  $x$  در شکل رو برو کدام است؟

(۱)  $4/5$

(۲)  $4$

(۳)  $3/5$

(۴)  $3$



۴۲- چند عدد ۴ رقمی زوج بدون تکرار ارقام، میتوان نوشت که با رقم فرد شروع می شود؟

(۴) ۲۵۲۰

(۳) ۲۰۱۶

(۲) ۱۴۰۰

(۱) ۱۲۰۰

۴۳- در جدول فراوانی زیر، درصد فراوانی تجمعی دسته سوم کدام است؟

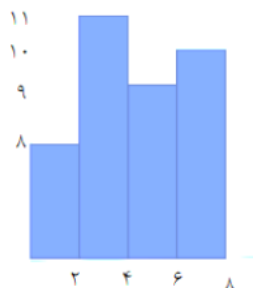
حدود	۶-۳	۹-۶	۱۲-۹	۱۵-۱۲	۱۸-۱۵
دسته ها					
فراوانی	۴	۱	۷	۳	۵

(۱) ۳۵

(۲) ۴۰

(۳) ۶۰

(۴) ۷۵



۴۴- میانگین داده های آماری نمودار مستطیلی روبرو کدام است؟

(۱) ۳/۱۲

(۲) ۳/۴۵

(۳) ۴/۱۱

(۴) ۴/۰۱

۴۵- داده های یک جامعه آماری 0.5 - 0.8 - 0.9 - 1 است. واریانس این داده ها کدام است؟

(۱) ۰/۲۵۰۰ (۲) ۰/۲۵ (۳) ۰/۳۵۰ (۴) ۰/۳۵

۴۶- بهینه سازی گردش کار مربوط به ارائه خدمات و تعهدات کوتاه مدت بیمه شدگان با جلب رضایتمندی آنان و با رعایت

کامل اصول و قوانین بیمه ای، به کدام قسمت مربوط می شود؟

(۱) امور اداری و خدمات عمومی و رفاه (۲) نام نویسی و حساب های انفرادی

(۳) امور فنی مستمری ها (۴) امور بیمه شدگان

۴۷- به ترتیب، اساسنامه سازمان تامین اجتماعی، به تایید و تصویب کدام مرجع رسیده است؟

(۱) مجلس شورای اسلامی - شورای عالی رفاه و تامین اجتماعی

(۲) شورای عالی رفاه و تامین اجتماعی - هیئت وزیران

(۳) وزارت تعاون، کار و رفاه اجتماعی - هیئت وزیران

(۴) هیئت وزیران - مجلس شورای اسلامی

۴۸- ناشر ایران عرضه - تکیه گاه اصلی سازمان تامین اجتماعی، کدام مورد است؟

(۱) مشارکت دوجانبه بیمه شدگان و کارفرمایان

(۲) مشارکت دوجانبه سازمان های کارگری و کارفرمایی

(۳) مشارکت سه جانبه کارفرمایان، بیمه شدگان و دولت

(۴) مشارکت چهارجانبه دولت، سازمان های کارگری و کارفرمایی و مجلس شورای اسلامی

۴۹- چند نفر از اعضای هیئت امنای سازمان تامین اجتماعی با پیشنهاد وزیر تعاون، کار و رفاه اجتماعی و با تصویب شورای

عالی رفاه و تامین اجتماعی تعیین می شوند؟

(۱) ۹ (۲) ۶ (۳) ۴ (۴) ۳

۵۰- «تعیین اعضای هیئت مدیره شرکت ها و موسسات تابع، بدون واسطه و هلدینگ های زیرمجموعه»، وظیفه کدام یک از

ارگان سازمان تامین اجتماعی است؟

(۱) مدیرعامل (۲) هیئت امنای (۳) هیئت نظارت (۴) هیئت مدیره

۵۱- تصمیمات اعضای هیئت مدیره سازمان تأمین اجتماعی، با رأی موافق حداقل چند نفر از اعضای حاضر، معتبر خواهد بود؟

- (۱) ۵ (۲) ۴ (۳) ۳ (۴) ۲

۵۲- انتخاب نمایندگان سازمان جهت حضور در مجامع مؤسسات و شرکت هایی که تمام یا قسمتی از سهام آنها متعلق به سازمان می باشد. از وظایف کدام رکن سازمان تأمین اجتماعی است؟

- (۱) هیئت مدیره (۲) هیئت امناء (۳) هیئت نظارت (۴) مدیرعامل

۵۳- طراحی و تدوین راهبردها و استراتژی های سرمایه گذاری، جمع آوری تمامی آمار و اطلاعات مربوط به دارایی ها و ذخایر سازمان و متعاقب آن، تلاش در جهت مکانیزه نمودن اطلاعات و به روزرسانی مستمر آنها، از مهم ترین اهداف کدام معاونت سازمان تأمین اجتماعی است؟

- (۱) فنی و درآمد (۲) امور استان ها

- (۳) حقوقی و امور مجلس (۴) امور اقتصادی و برنامه ریزی

۵۴- «غرامت نقص عضو مقطوع» و «کمک هزینه اولاد»، به ترتیب، جزو کدام نوع تعهدات سازمان تأمین اجتماعی است؟

- (۱) بلند مدت- بلند مدت (۲) کوتاه مدت- بلند مدت

- (۳) کوتاه مدت- کوتاه مدت (۴) بلند مدت- کوتاه مدت

۵۵- «کمیسیون های پزشکی تجدیدنظر» و «فعالیت های مربوط به کلینیک های طب کار، به ترتیب، جزو کدام اداره کل درمان است؟

- (۱) مستقیم - مستقیم (۲) مستقیم - غیرمستقیم

- (۳) پشتیبانی - پشتیبانی (۴) غیرمستقیم- غیرمستقیم

راهنمایی: هرکدام از سوال های ۱۱ تا ۱۶ را به دقت بخوانید و جواب هر سوال را در پاسخنامه علامت بزنید.

۵۶- در هر کدام از اشکال زیر، بین اعداد ارتباط خاص و مشترکی برقرار است. به جای علامت سوال کدام عدد باید قرار بگیرد؟



- (۱) ۳ (۲) ۶ (۳) ۷ (۴) ۹

۵۷- در شکل زیر، یک مستطیل که نسبت اضلاع آن ۴ به ۹ است دیده می شود که به ۱۲ قسمت مساوی تقسیم شده است. هرکدام از مستطیل های کوچک، چه نسبت اضلاعی دارد؟



(۱) ۲ به ۴

(۲) ۴ به ۹

(۳) ۹ به ۱۲

(۴) ۱۶ به ۲۷

۵۸- کودکی با ۵۰ مدادرنگی، تعدادی مثلث جدا از هم ساخته است. حداکثر تعداد اشکالی که کودک با این تعداد مداد رنگی می تواند بسازد، کدام است؟

(۱) ۱۶

(۲) ۱۵

(۳) ۱۴

(۴) ۱۳

۵۹- {ا ی ر ا ن ع ر ض ه} چند عدد دورقمی وجود دارد که اگر ۵ به آن اضافه شود، مضرب ۱۲ می شود؟

(۱) ۱۰

(۲) ۹

(۳) ۸

(۴) ۷

۶۰- در یک گزارش از عملکرد یک کارمند، آمده است که در سال جاری نسبت به سال قبل، وی تعداد روزهایی که سرکار بوده را ۲۰ درصد افزایش داده و به ۱۹۲ روز رسانده است. وی سال قبل، چند روز کار کرده است؟

(۱) ۱۵۲

(۲) ۱۶۰

(۳) ۱۷۵

(۴) ۱۸۰

۶۱- به ازای هر ۵ روزی که علی از اداره اش مرخصی گرفته، محمد ۹ روز مرخصی گرفته است. اگر این دو نفر روی هم ۷۰ روز مرخصی گرفته باشند، حداقل چند روز علی سر کار و محمد در مرخصی بوده است؟

(۱) ۲۸

(۲) ۲۴

(۳) ۲۰

(۴) ۱۶

راهنمایی: اطلاعات زیر را بخوانید و باتوجه به آن، به سوال های ۱۷ تا ۲۰ که در زیر آن آمده است، پاسخ دهید و در پاسخنامه علامت بزنید.

شرکتی برای تأمین کادر اداری خود، با هفت نفر به اسامی A, B, C, D, E, F و G مصاحبه کرده، سپس آنها را برحسب عملکردشان مرتب نموده و ۴ نفر اول را قبول و ۳ نفر آخر را رد اعلام می کند. اطلاعات زیر، درخصوص این افراد و وضعیت مصاحبه شان موجود است.

- B و E یا هر دو قبول می شوند یا هر دو رد.

- A و G، یکی قبول و دیگری رد می شود.

- عملکرد D در مصاحبه، از C بهتر است.

۶۲- اگر C قبول شده باشد، کدام مورد به طور قطع، صحیح است؟

(۱) E رد شده است. (۲) G رد شده است. (۳) B قبول شده است. (۴) A قبول شده است.

۶۳- اگر F رد شده باشد، چند نفر از ۶ نفر دیگر، قبولی شان قطعی می شود؟

(۱) ۱

(۲) ۲

(۳) ۳

(۴) ۴

۶۴- اگر C رد ولی A قبول شده باشد، وضعیت کدام فرد زیر، از لحاظ قبولی یا ردی در مصاحبه، به طور قطع، مشخص نمی شود؟

(۱) B

(۲) D

(۳) E

(۴) G

۶۵- اگر F قبول و C رد شده باشد، کدام یک از موارد زیر، لزوماً صحیح است؟

\* A قبول شده است.

\*\* B رد شده است.

\*\*\* وضعیت A و D از لحاظ قبولی یا ردی مشابه است.

(۴) فقط \*\*

(۳) فقط \*

(۲) \* و \*\*

(۱) \*\* و \*\*\*

### Part A: Grammar and Vocabulary

**Directions:** Choose the word or phrase (1), (2), (3), or (4) that best completes each sentence. Then mark the correct choice on your answer sheet.

66- surely, the results of the tests must ..... before they are published. (iranarze.ir)

- 1) check                      2) be checked                      3) have checked                      4) being checked

67- The new course leads to a diploma ..... By all major employers. (iranarze.ir)

- 1) which has recognized                      2) which recognized  
3) recognized                      4) is recognized

68- we are quite busy today, but I'll see if I can ..... a meeting for sometime tomorrow morning.

- 1) arrange                      2) income                      3) communicate                      4) influence

69- (i r a n a r z e) It is generally quite difficult to raise a family on a single ..... in many countries.

- 1) culture                      2) income                      3) identity                      4) element

70- I've been calling Mary ..... all morning, but she doesn't answer. I guess she's at a meeting.

- 1) repeatedly                      2) suddenly                      3) finally                      4) totally

### Part B: Reading Comprehension

**Directions:** Read the following passage and select the choice (1), (2), (3), or (4) that best answers each question. Then mark your answer on your answer sheet.

Are you healthy? Before answering, think about what you understand by "health". It doesn't just mean freedom from disease. Health is a measure of how sound and vigorous both your body and mind are. A truly healthy person has a sense of physical and mental well-being. Our health is precious and easily damaged. But there is much we can do to maintain it. Eating well, exercising, and getting enough sleep all help keep us healthy. Standards of health and health hazards are different from place. In some parts of the world, many people have many health problems because they are poor, hungry, and without clean

drinking water. In other places, stress at work, lack of exercise, and too much food bring their own health problems, such as heart disease.

Food plays a large part in our health. A healthy diet includes fresh fruit and vegetables, meat, fish, bread, eggs, and milk, but not too many fatty, salty, or sugary. Good health also depends on regular exercise because it keeps as fit. Regular exercise improves blood circulation. Makes the heart and lungs work well, and keeps the strong and toned. It is good for the brain as well as the body. And makes on feet in start and a cool-down sequence at the end to prevent strain on muscles.

**71- Which of the following is the best title for the passage? (iranarze.ir)**

- |                       |                       |
|-----------------------|-----------------------|
| 1) Healthy eating     | 2) physical Exercise  |
| 3) Standards of Heath | 4) Health and fitness |

**72- The word "precious" in paragraph 1 means ..... . (iranarze.ir)**

- |            |            |             |              |
|------------|------------|-------------|--------------|
| 1) serious | 2) popular | 3) valuable | 4) important |
|------------|------------|-------------|--------------|

**73- The word "they" in paragraph 1 refers to ..... . (iranarze.ir)**

- |                       |                    |
|-----------------------|--------------------|
| 1) people             | 2) health hazards  |
| 3) parts of the world | 4) health problems |

**74- The passage mentions all of the following as sources of health problem .....(iranarze.ir)**

- |                                 |                   |
|---------------------------------|-------------------|
| 1) lack of clean drinking water | 2) stress at work |
| 3) too much eating              | 4) smoking        |

**75- According to the passage, regular exercise is good for ..... (iranarze.ir)**

- 1) blood circulation, muscles, and joints
- 2) blood circulation, muscles, and brain
- 3) heart, lungs, and joints
- 4) heart, lungs, and knees

## ❖ فصل یازدهم: اصل سوالات آزمون استخدامی شرکت کار و تامین خوزستان سال

۱۴۰۳

۱- در محتوای معمول قرارداد کار چه مواردی گنجانده نمی شود؟

(۱) ساعات کار، تعطیلات و مرخصی ها (۲) مدت قرارداد

(۳) تعیین وکلای طرفین قرارداد (۴) نوع حرفه یا کار

❑ پاسخ سایت ایران عرضه: گزینه ۳ ← مطابق با ماده ۱۰ از قانون کار، قرارداد کار علاوه بر مشخصات دقیق طرفین، باید

حاوی موارد ذیل باشد:

- نوع کار یا حرفه یا وظیفه ای که کارگر باید به آن اشتغال یابد . - حقوق یا مزد مبنا و لواحق آن

- ساعات کار، تعطیلات و مرخصی ها - محل انجام کار

- تاریخ انعقاد قرارداد - مدت قرارداد، چنانچه کار برای مدت معین

باشد .

- موارد دیگری که عرف و عادت شغل یا محل، ایجاب نماید . - شرایط و نحوه فسخ قرارداد

- شرایط و نحوه فسخ قرارداد (در مواردی که مدت تعیین نشده است)

۲- در خصوص ترکیب اعضای هیات حل اختلاف کدام مورد درست نیست؟

(۱) سه نفر نماینده کارگران (۲) سه نفر نماینده کارفرمایان

(۳) سه نفر نماینده دولت (۴) سه نفر نماینده شورای اسلامی کار

۳- (منبع ایران عرضه) آرای مراجع حل اختلاف کار.....

(۱) لازم الاجرا نیست

(۲) لازم الاجرا است

(۳) غیرقابل تجدید نظر خواهی از دیگر مراجع قانونی است

(۴) کارکرد مشورتی و کارشناسی دارد

۴- ..... عبارت است از تبادل نظرهایی که درباره شرایط کار بین یک کارفرما یا گروهی از کارفرمایان یا یک یا چند سازمان

کارفرمایی از یک طرف و یک یا چند سازمان کارگری از طرف دیگر به منظور دسترسی به توافق صورت گیرد

(۱) مذاکرات دسته جمعی کار (۲) سمینارهای کارگری

(۳) توافقنامه کاری (۴) نشست اجتماعی کار

۵- کلیه دریافتی های قانونی را که کارگر به اعتبار قرارداد کار اعم از مزد یا حقوق، کمک عائله مندی، هزینه های مسکن،

خواربار، ایاب و ذهاب، مزایای غیر نقدی، پاداش افزایش تولید، سود سالانه و نظایر آنها دریافت می نماید.....می نامند.



(۱) حقوق و دستمزد (۲) جبران زحمات (۳) حق السعی (۴) درآمد یا دریافتی ناخالص

۶- نظام جامع تامین اجتماعی شامل ..... می باشد

(۱) چهار حوزه (۲) سه حوزه (۳) دو حوزه (۴) پنج حوزه

۷- کدام گزینه در زمره اهداف و وظایف حوزه حمایتی و توانبخشی نمی باشد؟

(۱) هدفمندسازی یارانه ها

(۲) پیشگیری از آسیب های اجتماعی

(۳) کمک به آسیب دیدگان حوادث و رویداد های غیر مترقبه مانند سیل، زمین لرزه و .....

(۴) تعیین و تحلیل خط فقر

۸- سازمان تامین اجتماعی همچون جمعیت هلال احمر جمهوری اسلامی ایران یک نهاد ..... است

(۱) غیر دولتی (۲) دولتی (۳) مردم نهاد (۴) غیر عمومی

۹- در دست داشتن انگشتر طلا برای.....

(۱) هر مسلمانی حرام است (۲) مرد مسلمان حرام است

(۳) زن مسلمان حرام است (۴) هیچکدام

۱۰- پرداخت فطریه در روز عید فطر توسط افراد دارای توان مالی..... است

(۱) مستحب (۲) واجب کفایی (۳) واجب (۴) مستحب موکد

۱۱- کدام یک از گزینه ها در حال نمی تواند باعث واجب شدن نماز آیات گردد؟

(۱) زمین لرزه (۲) صاعقه (۳) سیل (۴) جنگ و کشتار

۱۲- (منبع فروشگاه اینترنتی ایران عرضه) نماز وحشت یکی از نمازهای ..... است

(۱) واجب (۲) مستحب (۳) مباح (۴) همه موارد

۱۳- طبق آیات قرآن کریم انجام چه عملی مانند خوردن گوشت انسان یا برادره مرده است؟

(۱) احتکار (۲) غیبت (۳) زنا (۴) ربا

۱۴- این حدیث شریف منسوب به چه کسی است؟

«اطلبوا العلم من المهد الى اللحد»

(۱) پیامبر اعظم (ص) (۲) امام علی (ع) (۳) امام باقر (ع) (۴) امام جعفر صادق (ع)

۱۵- طبق آیات قرآن مجید کدام پیامبر الهی درحالی که بر عصای خویش تکیه داده بود از دنیا رفت و موریانه با خوردن و شکستن عصای وی مردم را از درگذشت او آگاه نمود؟

(۱) حضرت ابراهیم (ع) (۲) حضرت موسی (ع) (۳) حضرت سلیمان (ع) (۴) حضرت داوود (ع)

۱۶- (منبع فروشگاه اینترنتی ایران عرضه) عبارت چهار قل به کدام سوره قرآن کریم اشاره ندارد؟

(۱) سوره کافرون (۲) سوره ناس (۳) سوره مومنون (۴) سوره فلق

۱۷- املای همه گزینه ها درست است به جز.....

(۱) نصیب شدن (۲) گشت و گزار (۳) عطش مطالعه (۴) اخلاص و همت

۱۸- رابطه کلمات در کدام گزینه با بقیه موارد فرق دارد؟

(۱) صید و شکار (۲) بیزاری و تنفر (۳) قرائت و خواندن (۴) خواندن و نوشتن

۱۹- بزرگ ترین دو بیتی سرای تاریخ ادبیات ایران چه کسی است؟

(۱) بابا طاهر (۲) خیام (۳) ابوسعید ابوالخیر (۴) عطار

۲۰- برای مسائل اخلاقی، اجتماعی، پند و اندرز از چه قالب شعری استفاده می شود؟

(۱) قصیده (۲) چهارپاره (۳) قطعه (۴) رباعی

۲۱- - طراحی شده توسط ایران عرضه - این بیت شعر در سروده های کدام شاعر نامی آمده است؟

«بیند این بستر و عبرت گیرد هر که را چشم حقیقت بین است»

(۱) نیما یوشیج (۲) پروین اعتصامی (۳) شهریار (۴) قیصر ایمن پور

۲۲- معنای «چمیدن» در کدام گزینه نیامده است؟

(۱) نرم راه رفتن (۲) آهسته راه رفتن (۳) با احساس راه رفتن (۴) در چمن راه رفتن

۲۳- سهراب سپهری پیرو سبک کدام شاعر است؟

(۱) قیصر امین پور (۲) خسرو معتضد (۳) شهریار (۴) نیما یوشیج

۲۴- ایران عرضه! کدام گزینه مربوط به «نامه های اداری» نیست؟

(۱) برادر عزیزم (۲) معاون ارجمند (۳) مسئول محترم (۴) کارشناس گرامی

۲۵- بی کربنات سدیم نام شیمیایی کدام ماده زیر است؟

(۱) نمک خوراکی (۲) جوش شیرین (۳) مغز مداد (۴) آرد سوخاری

۲۶- پایتخت کشور اسپانیا کدام است؟

(۱) بارسلون (۲) اوساسونا (۳) بلبائو (۴) مادرید

۲۷- سرزمین آلاسکا جزو خاک کدام کشور است؟

(۱) روسیه (۲) آمریکا (۳) بریتانیا (۴) کانادا

۲۸- بلندترین رودخانه در کدام کشور است؟

(۱) فرانسه (۲) آمریکا (۳) چین (۴) مصر

۲۹- نخستین انسانی که بر کره ماه قدم نهاد چه کسی بود؟

(۱) ویلی ولفگانگ (۲) آلبر کامو (۳) نیل آرمسترانگ (۴) نیوتن گینگریج

۳۰- نام سیستم ضد هوایی ایرانی که توانست پهپاد معروف گلوبال هاوک آمریکا را هدف قرار داده و ساقط کند چیست؟

- (۱) سامانه سوم خرداد (۲) باور ۳۱۳ (۳) اس ۴۰۰ (۴) سامانه شفق

۳۱- ناشر ایران عرضه - پس از سلسله هخامنشیان چه سلسله ای در ایران حاکم شد؟

- (۱) ساسانیان (۲) اشکانیان (۳) سلوکیان (۴) مادها

۳۲- معادل فارسی واژه آرشیو (Archive) کدام گزینه است؟

- (۱) قفسه (۲) بایگانی (۳) کاشانه (۴) بسته

۳۳- سه سکه را پشت سر هم پرتاب می کنیم احتمال این که فقط یکی از آنها خط بیاید چقدر است؟

- (۱) یک ششم (۲) سه هشتم (۳) سه ششم (۴) یک هشتم

۳۴- میانگین ۱۵ عدد مثبت برابر w می باشد اگر هر عدد ۷۵ درصد افزایش یابد معدل مجموع این اعداد چند درصد افزایش خواهد یافت؟

- (۱) ۷۵ (۲) ۵ (۳)  $75 \cdot w$  (۴)  $75/w$

۳۵- {ایران عرضه} برای جای خالی چه عددی مناسب است؟

۱۵۰۰، ۴۲۵۰، ۱۲۵۰۰، .....، ۱۱۱۵۰۰

- (۱) ۳۷۵۰۰ (۲) ۱۸۵۰۰ (۳) ۳۷۲۵۰ (۴) ۵۴۷۵۰

۳۶- کدام مقدار برای x جواب معادله زیر را به درستی نشان می دهد؟

$$4x^2(4x - 8) = 0$$

- (۱) ۰ (۲) ۲ (۳)  $\frac{4}{8}$  (۴) گزینه ۱ و ۲

۳۷- آقای رستگاری و همسرش ۵ دختر دارند و هر دختر یک برادر دارد این خانواده چند نفره است؟

- (۱) ۱۲ (۲) ۸ (۳) ۷ (۴) ۱۱

۳۸- اگر عدد ۳۳ را بر نیم تقسیم نموده و عدد ۱۶ را به حاصل آن اضافه کنیم چه عددی به دست خواهد آمد؟

- (۱)  $32/5$  (۲) ۵۰ (۳) ۹۸ (۴) ۸۲

۳۹- فاصله میان دو نقطه x و z در کهکشان حدود ۹۰۰ هزار کیلومتر است اگر راس ساعت ۱ به وقت محلی انفجار بزرگی در

نقطه x رخ بدهد ساکنان نقطه z چه مدت بعد می توانند آن را مشاهده کنند؟

- (۱) ۳ ثانیه بعد (۲) ۸ دقیقه بعد (۳) ۹ ثانیه بعد (۴) ۶۰ ثانیه بعد

۴۰- (متعلق به سایت ایران عرضه) حجم آب در حالت ..... بیشتر و در حالت ..... کمتر می شود

- (۱) مایع، منجمد (۲) مایع، گاز (۳) جامد، مایع (۴) هیچکدام